



Selecciona el estudiante a encuestar



Encuesta incompleta



JESUS KIBE ECHACCAYA TORRES

Encuesta incompleta



ALVARADO RANATO SIALER BENITES

Encuesta incompleta



MARCOS ANTONIO ALLASI SALAZAR

Encuesta completada

CONTINUAR

Selecciona el estudiante a encuestar

Selecciona una opcion

Encuestar al estudiante ☐

Encuestar al padre ☐

CANCELAR

MARCOS ANTONIO ALLASI SALAZAR

Encuesta completada

CONTINUAR



1. ¿Qué nivel de educación te gustaría que TU HIJO alcanzara?

- ☐ Primaria
- ☐ Secundaria
- ☐ Superior Técnica
- ☐ Universitaria

CONTINUAR

ES BUENO HACER PLANES...
PERO SE PUEDEN PRESENTAR OBSTÁCULOS...

EL FUTURO
PRÓXIMA SALIDA



CONTINUAR



2. ¿Qué problemas u obstáculos piensas que los estudiantes enfrentan en el colegio de TU HIJO?

- ☐ Podrían tener hijos y no poder estudiar
- ☐ El centro de estudios les puede quedar lejos de casa
- ☐ Podrían no tener dinero para pagar su educación
- ☐ Podrían trabajar para apoyar a sus familias
- ☐ No tienen ningún problema
- ☐ Creen que no tienen las habilidades para continuar con sus estudios
- ☐ Problemas de salud

CONTINUAR



3. ¿Crees que TU HIJO podría enfrentar problemas parecidos?

- ☐ Sí
- ☐ No

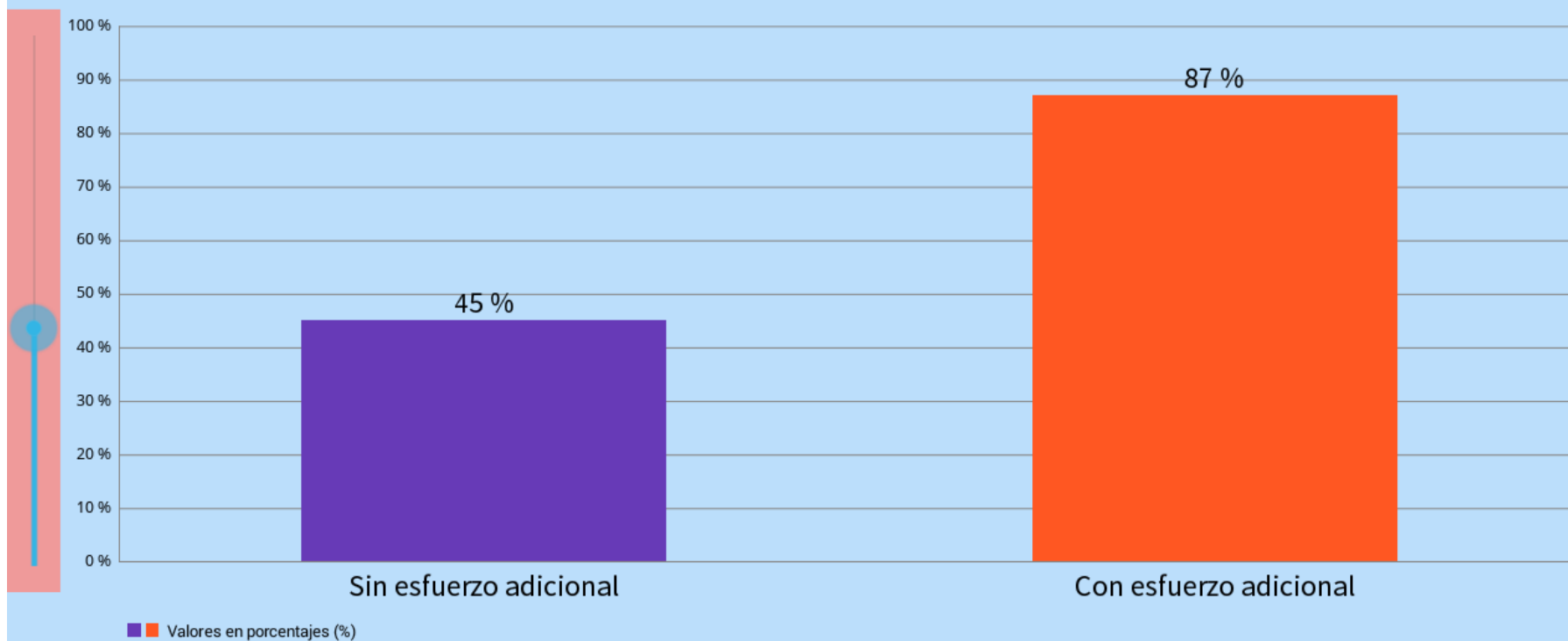
CONTINUAR

4. ¿Qué obstáculos o problemas podrías tener TU HIJO?

- ☐ Podría tener un hijo y no poder estudiar
- ☐ El centro de estudios puede estar muy lejos de casa
- ☐ Podría no tener dinero para pagar mi educación
- ☐ Trabajar para apoyar a mi familia
- ☐ No creo que se me presente ningún problema
- ☐ Creo que no tengo las habilidades para continuar con mis estudios
- ☐ Problemas de salud

CONTINUAR

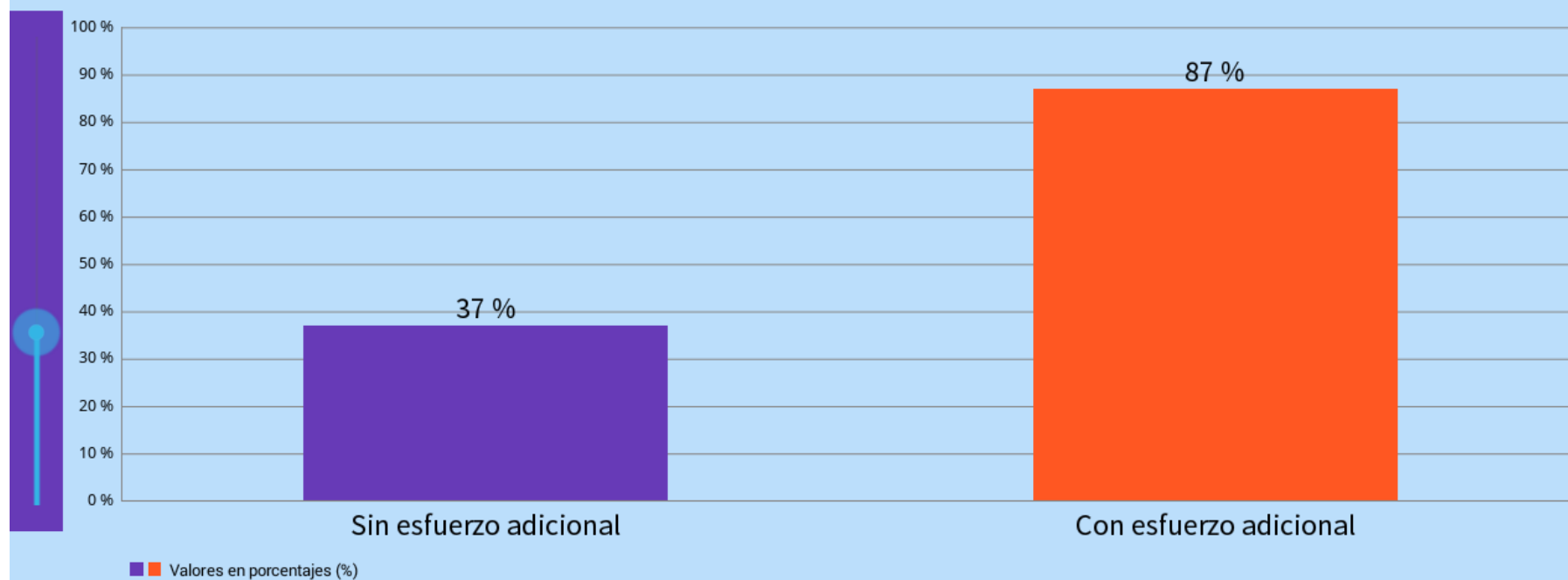
5. ¿Con qué probabilidad crees que TU HIJO pueda terminar la secundaria?



CONTINUAR

Nota: La respuesta está acotada entre 0% y 100%

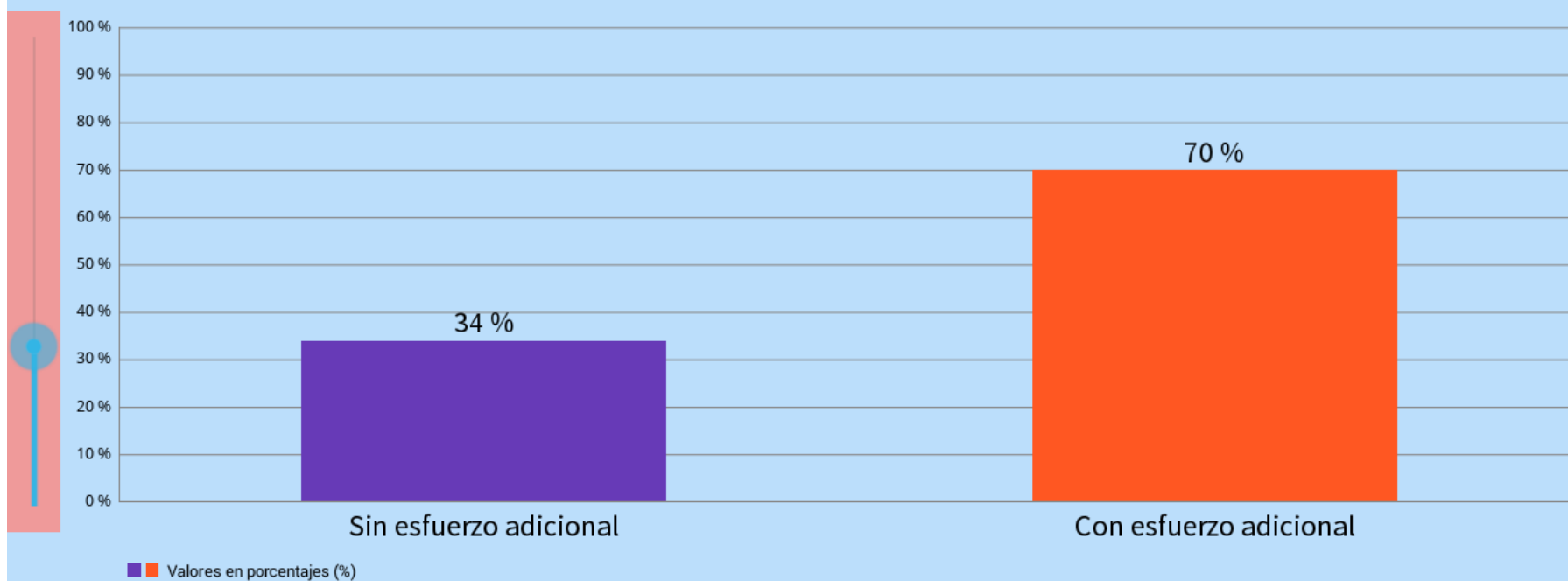
6. Ahora al terminar la Secundaria, si quisiera, ¿Con qué probabilidad crees que TU HIJO pueda estudiar en un instituto técnico?



CONTINUAR

Nota: La respuesta está acotada entre 0% y 100%

7. Ahora al terminar la Secundaria, si quisiera, ¿Con qué probabilidad crees que TU HIJO pueda estudiar en la universidad?



CONTINUAR

Nota: La respuesta está acotada entre 0% y 100%



8. ¿Cómo crees que la mayoría de los peruanos financian su educación superior?

- ☐ Trabajan y estudian
- ☐ Créditos
- ☐ No sé
- ☐ Padres o familiares
- ☐ Becas

CONTINUAR

Nota: Pregunta tipo "radio button", orden aleatorio



9. ¿Conoces alguna beca?

- ☐ Sí
- ☐ No

CONTINUAR



9a. ¿Cuál beca conoces?

Escribe el nombre de la beca que cc

CONTINUAR



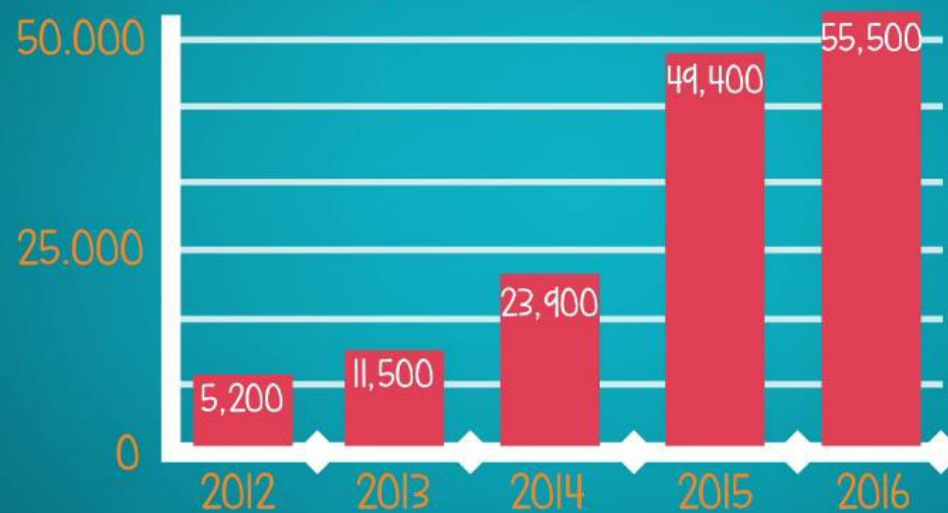
10. Algunas personas tienen mucho dinero y a otras les hace falta. ¿Cuál crees que sea la razón más importante de esa diferencia?

- ☐ Tuvieron mucha suerte
- ☐ Tuvieron mucho talento
- ☐ Trabajaron muy duro para obtenerlo
- ☐ Tuvieron padres con mucho dinero

CONTINUAR

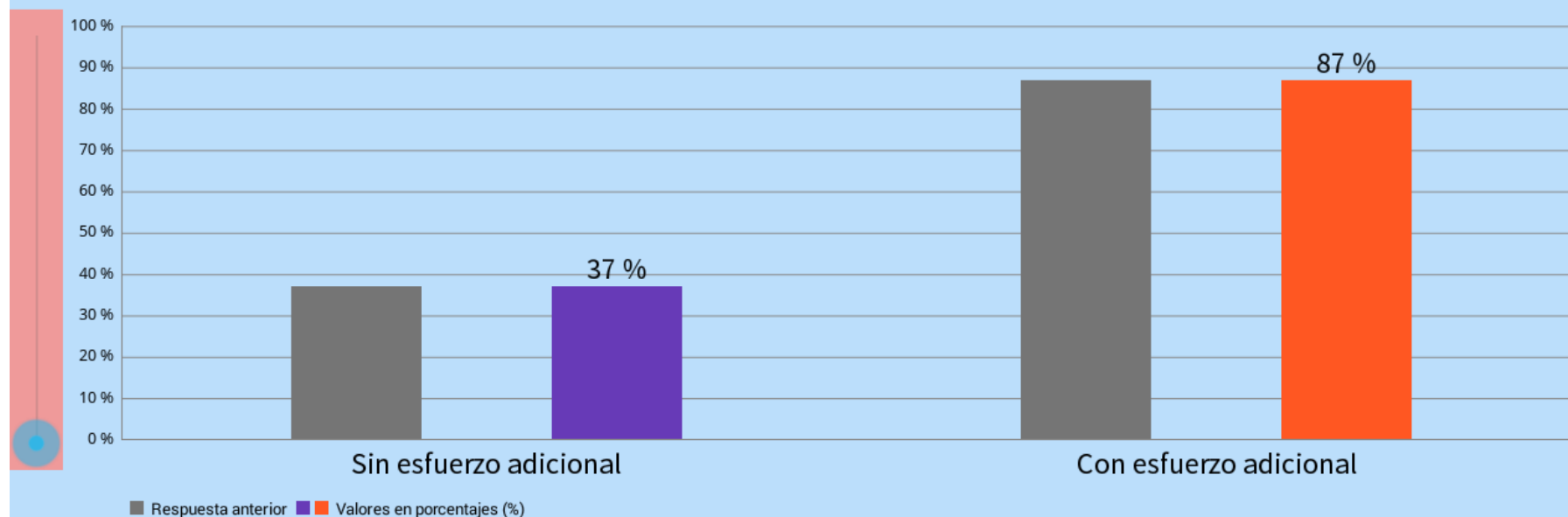
Nota: Pregunta tipo "radio button", orden aleatorio

BECAS OTORGADAS (Acumulado)



CONTINUAR

11. Después de ver este video y conocer más opciones de becas y créditos, ahora al terminar la Secundaria... Si quisiera, ¿Con qué probabilidad crees que TU HIJO puedas estudiar en un instituto técnico?

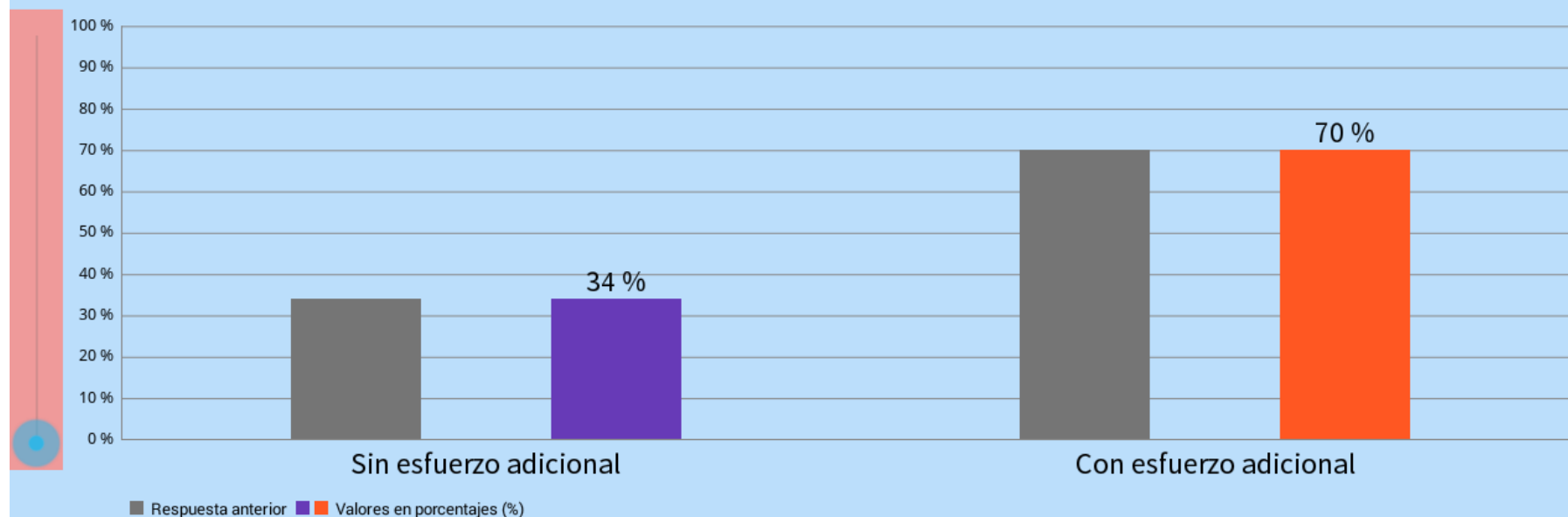


CONTINUAR

Nota: Las barras grises muestran la respuesta anterior [Pregunta 6]

Nota: La respuesta está acotada entre 0% y 100%

12. Después de ver este video y conocer más opciones de becas y créditos, ahora al terminar la secundaria... Si quisiera, ¿Con qué probabilidad crees que TU HIJO pueda estudiar en una universidad?



CONTINUAR

Nota: Las barras grises muestran la respuesta anterior [Pregunta 7]

Nota: La respuesta está acotada entre 0% y 100%



13. Durante el transcurso del mes, ¿Piensas buscar más información sobre los planes de educación de TU HIJO?

- ☐ Sí
- ☐ No

CONTINUAR



13a. ¿Cómo piensas buscar más información sobre los planes de educación de TU
HIJO?

- ☐ Internet (otro sitio)
- ☐ Profesores
- ☐ Familia
- ☐ Internet desde casa
- ☐ Amigos
- ☐ Internet desde la escuela

CONTINUAR

Nota: Pregunta tipo "radio button", orden aleatorio



14. ¿Sabes que es un promedio?

- ☐ Sí
- ☐ No

CONTINUAR



14a. Si en un curso tienes 3 notas: 09 en el primer examen, 20 en el segundo examen y 16 en el tercero. ¿Cuál es tu nota promedio?

Escribe el promedio

☐ No lo sé

CONTINUAR



15. Cuánto crees que ganan los hombres entre 25-55 años de edad en el Perú?

Respuesta en Soles

☐ No lo sé

CONTINUAR

La pregunta cambia según el sexo del estudiante (Mujeres/Hombres)



ALTURA PROMEDIO

CONTINUAR



16. ¿Cuánto crees que miden en promedio los hombres en el Perú?

Respuesta en cm

☐ No lo sé

CONTINUAR

La pregunta cambia según el sexo del estudiante (Mujeres/Hombres)



5 CATEGORÍAS


Más bajos

Bajos

Medianos

Altos

Más Altos

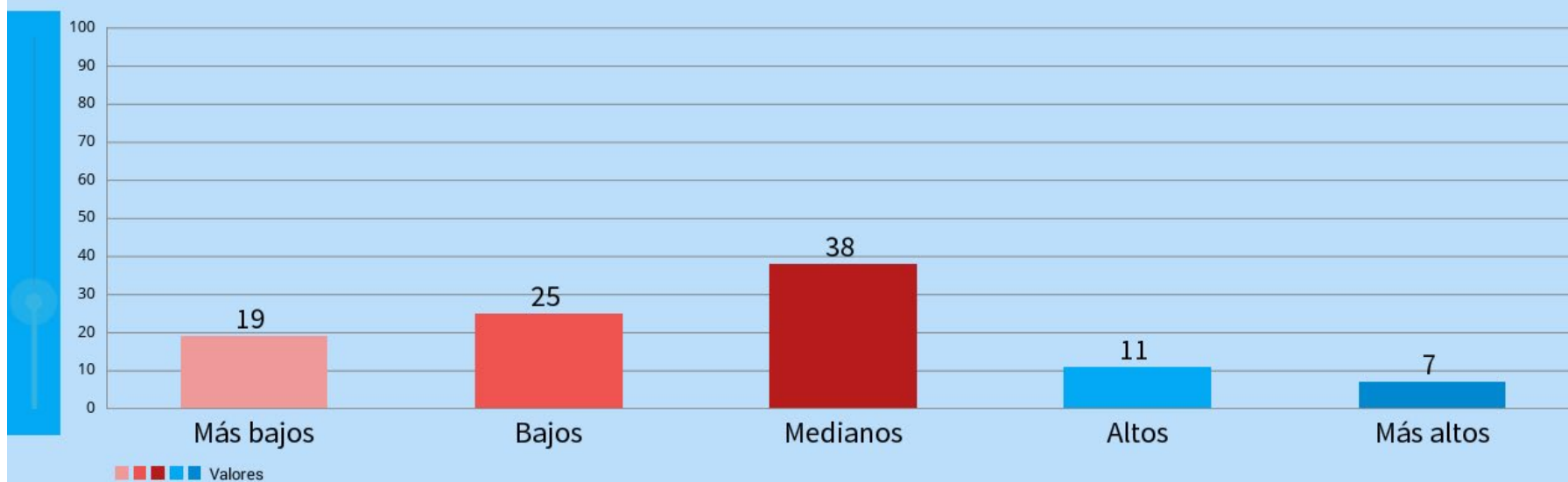


CONTINUAR

La pregunta cambia según el sexo del estudiante (Mujeres/Hombres)

17. De cada 100 hombres, ¿cuántos crees que se encuentren en cada grupo de la población?

100/100 



CONTINUAR

La pregunta cambia según el sexo del estudiante (Mujeres/Hombres)

Nota: La respuesta está acotada entre 0 y 100



¿QUÉ TAN ALTO ES EL PERUANO PROMEDIO?



100 hombres

8

Más bajos

12

Bajos

16

Medianos

26

Altos

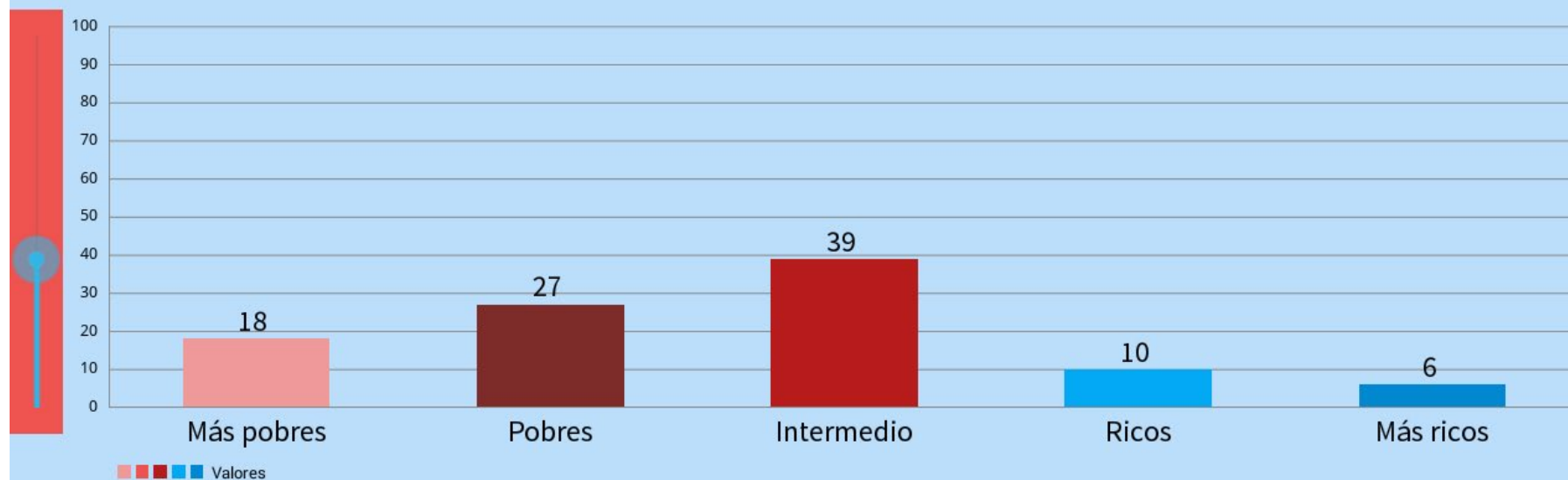
38

Más altos

CONTINUAR

18. De cada 100 hombres que no terminaron la secundaria
¿cuántos crees que se encuentren en cada grupo de ingresos?

100/100 



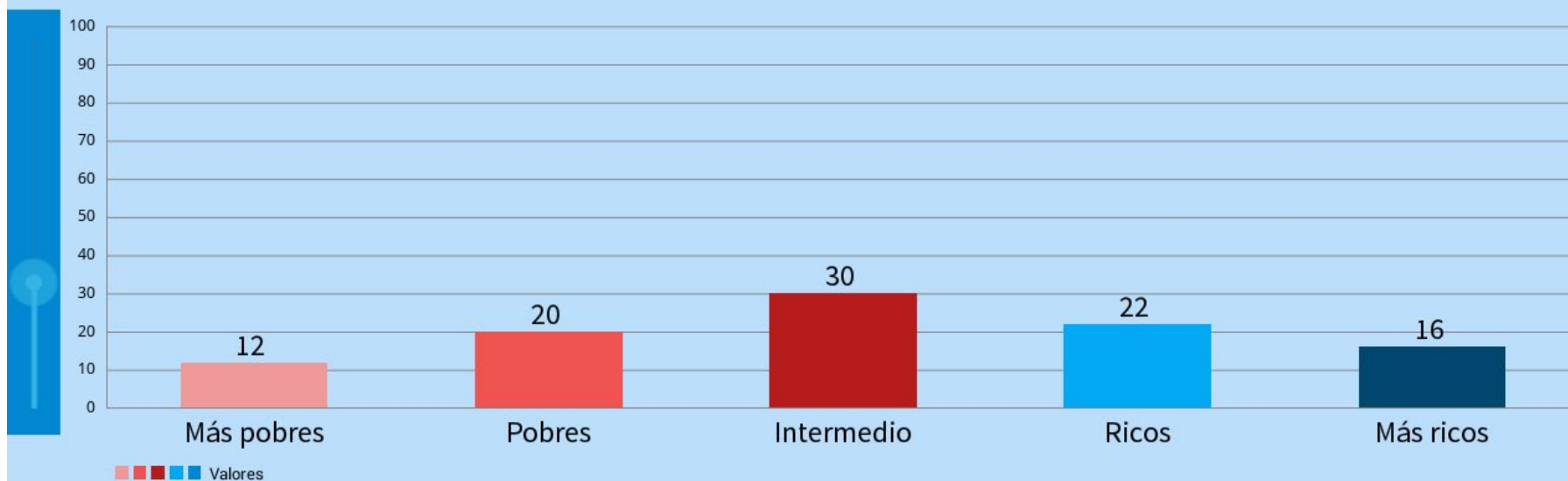
CONTINUAR

La pregunta cambia según el sexo del estudiante (Mujeres/Hombres)

Nota: La respuesta está acotada entre 0 y 100

19. De cada 100 hombres que terminaron una carrera técnica, ¿cuántos crees que se encuentren en cada grupo de ingresos?

100/100 

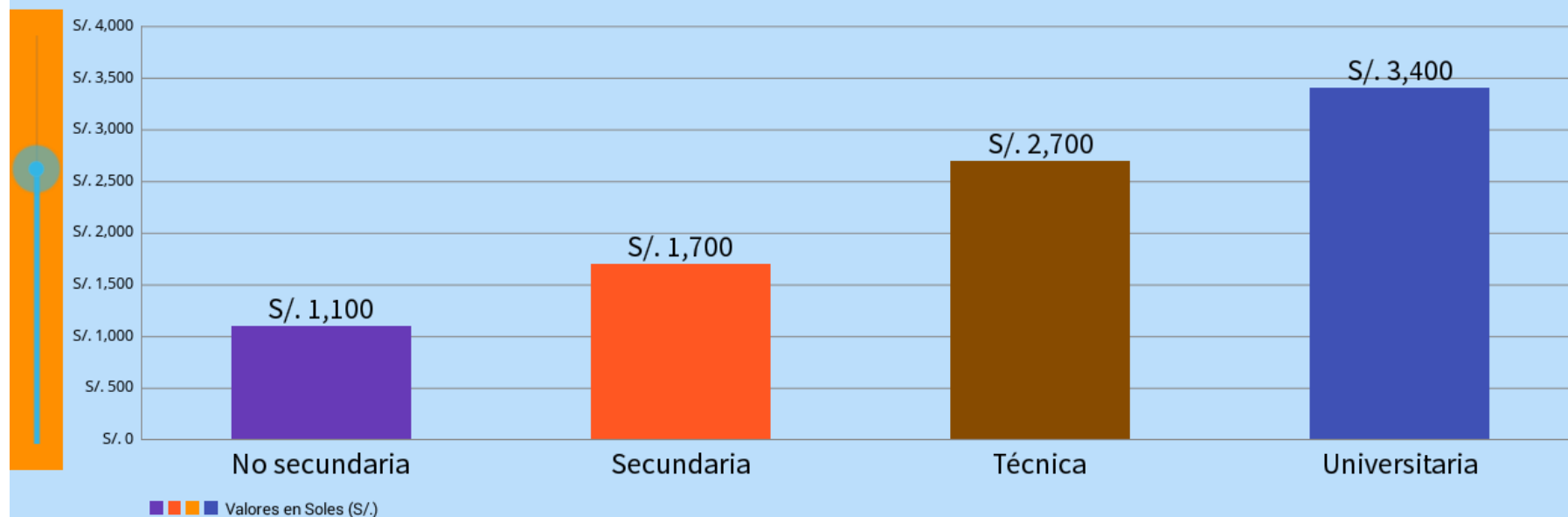


CONTINUAR

La pregunta cambia según el sexo del estudiante (Mujeres/Hombres)

Nota: La respuesta está acotada entre 0 y 100

20. De TODOS los peruanos hombres entre 25 y 55 años que viven en el Perú, ¿cuánto crees que ganan mensualmente estas personas, si tienen estos niveles de educación:

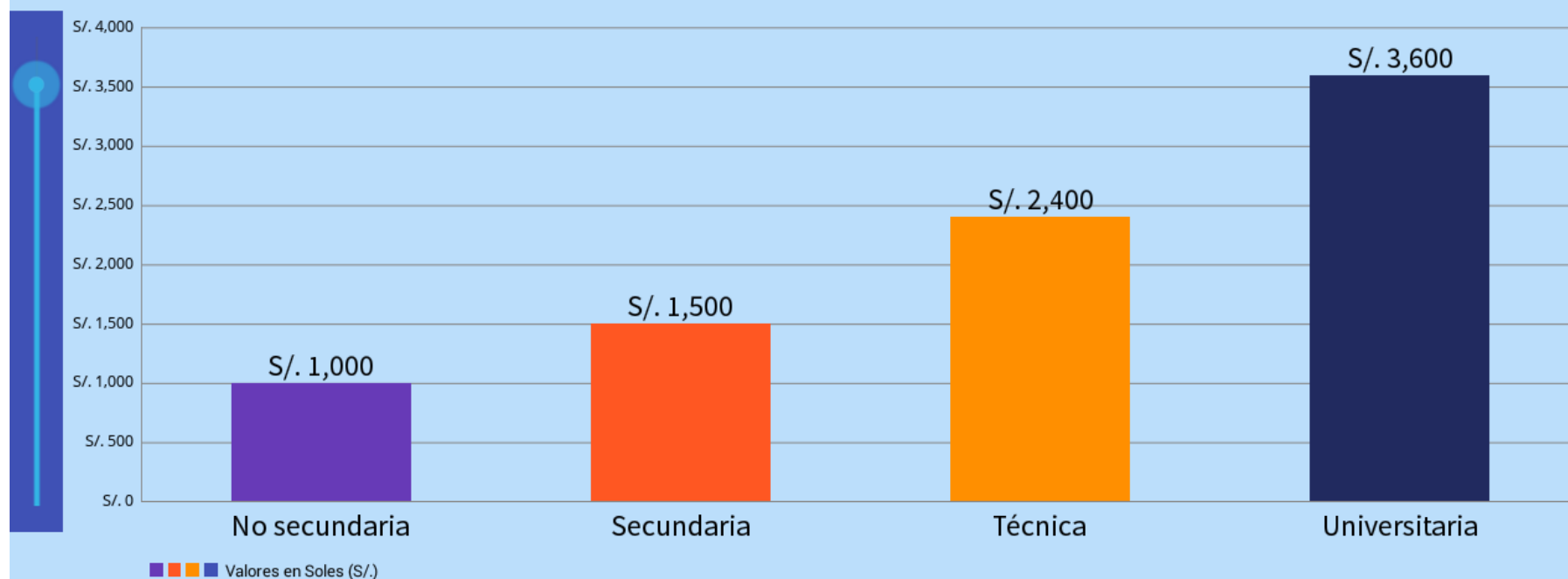


CONTINUAR

La pregunta cambia según el sexo del estudiante (Mujeres/Hombres)

Nota: La respuesta está acotada entre S/0 y S/4000

21. Ahora, ¿cuánto crees que TU HIJO ganaría si tuviera estos niveles de educación?

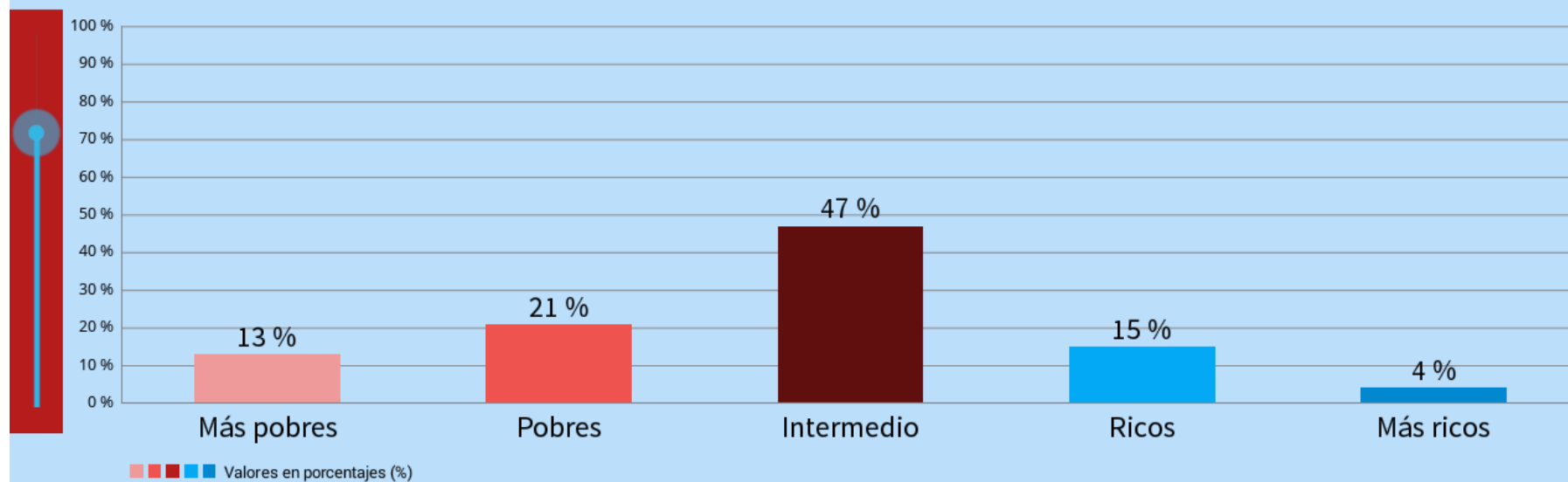


CONTINUAR

Nota: La respuesta está acotada entre S/0 y S/4000

22. Si TU HIJO no termina la secundaria, ¿con qué probabilidad crees que estará en cada grupo de ingresos?

100/100

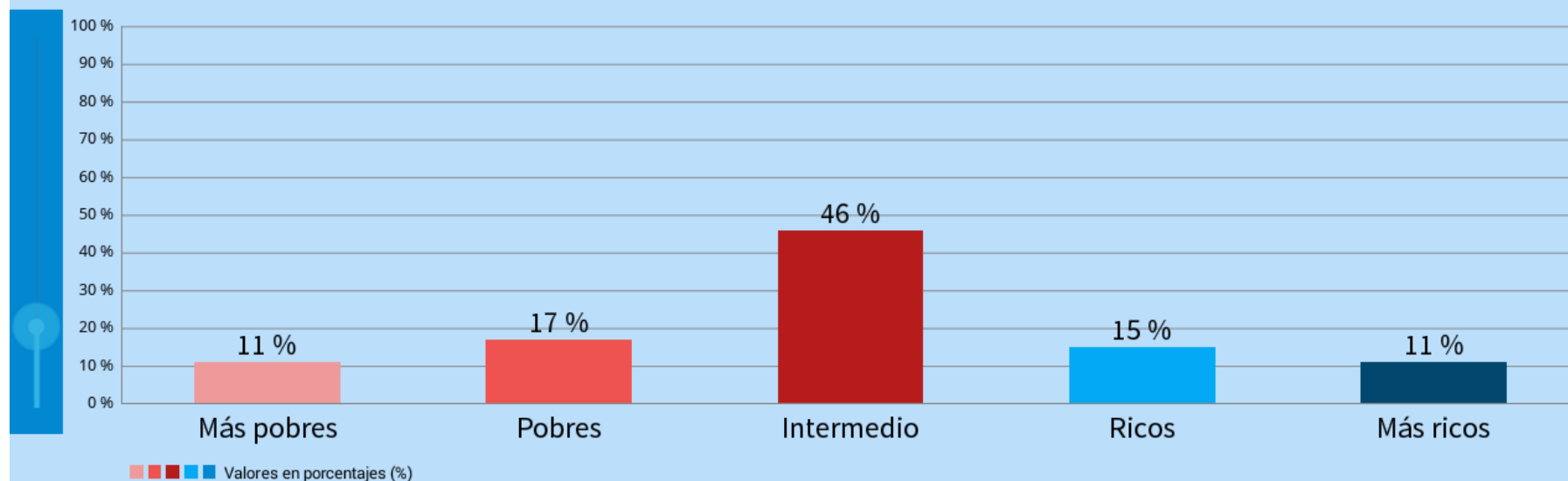


CONTINUAR

Nota: La respuesta está acotada entre 0% y 100%

23. Si TU HIJO termina la secundaria ¿con qué probabilidad crees que estará en cada grupo de ingresos?

100/100

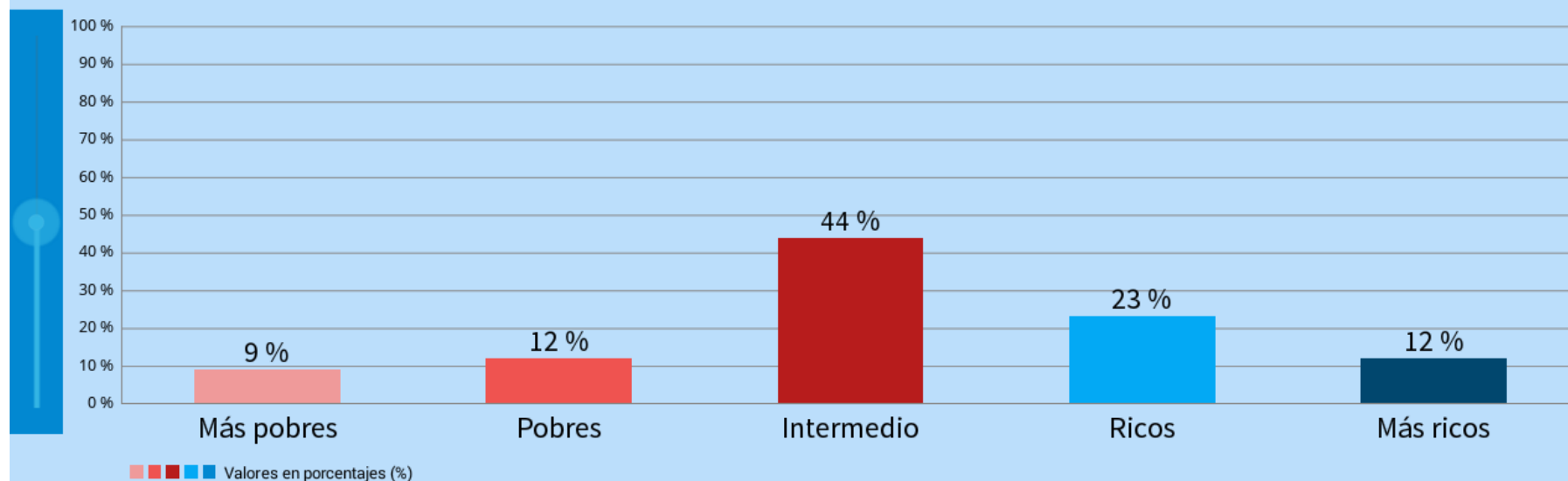


CONTINUAR

Nota: La respuesta está acotada entre 0% y 100%

24. Si TU HIJO termina una carrera técnica ¿con qué probabilidad crees que estará en cada grupo de ingresos?

100/100

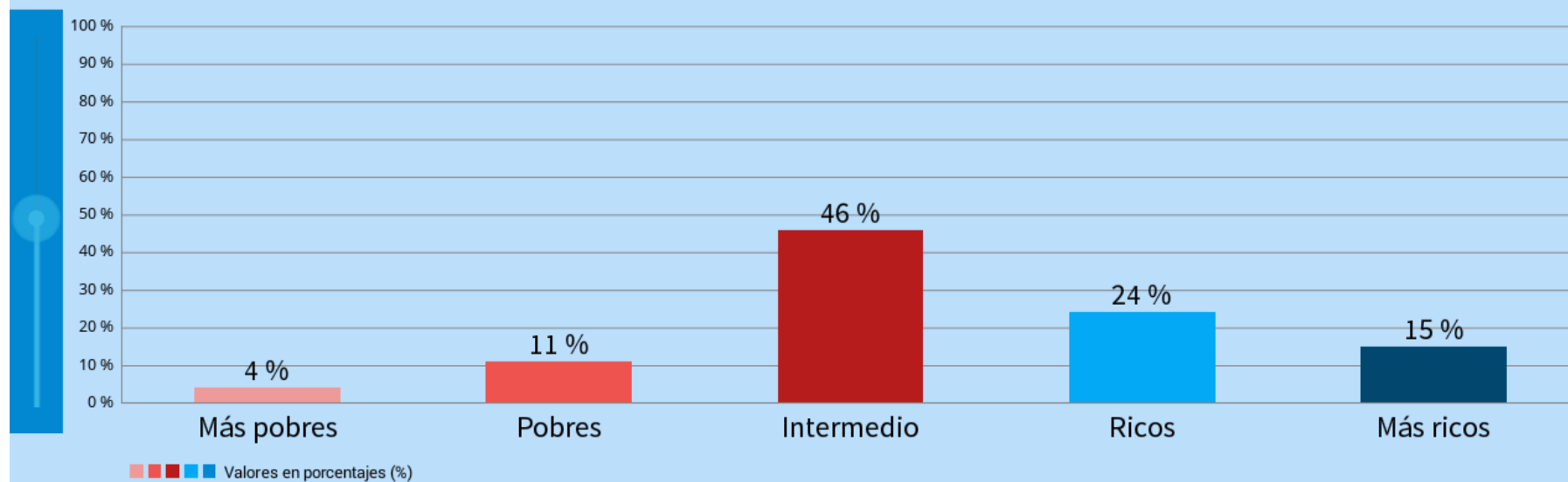


CONTINUAR

Nota: La respuesta está acotada entre 0% y 100%

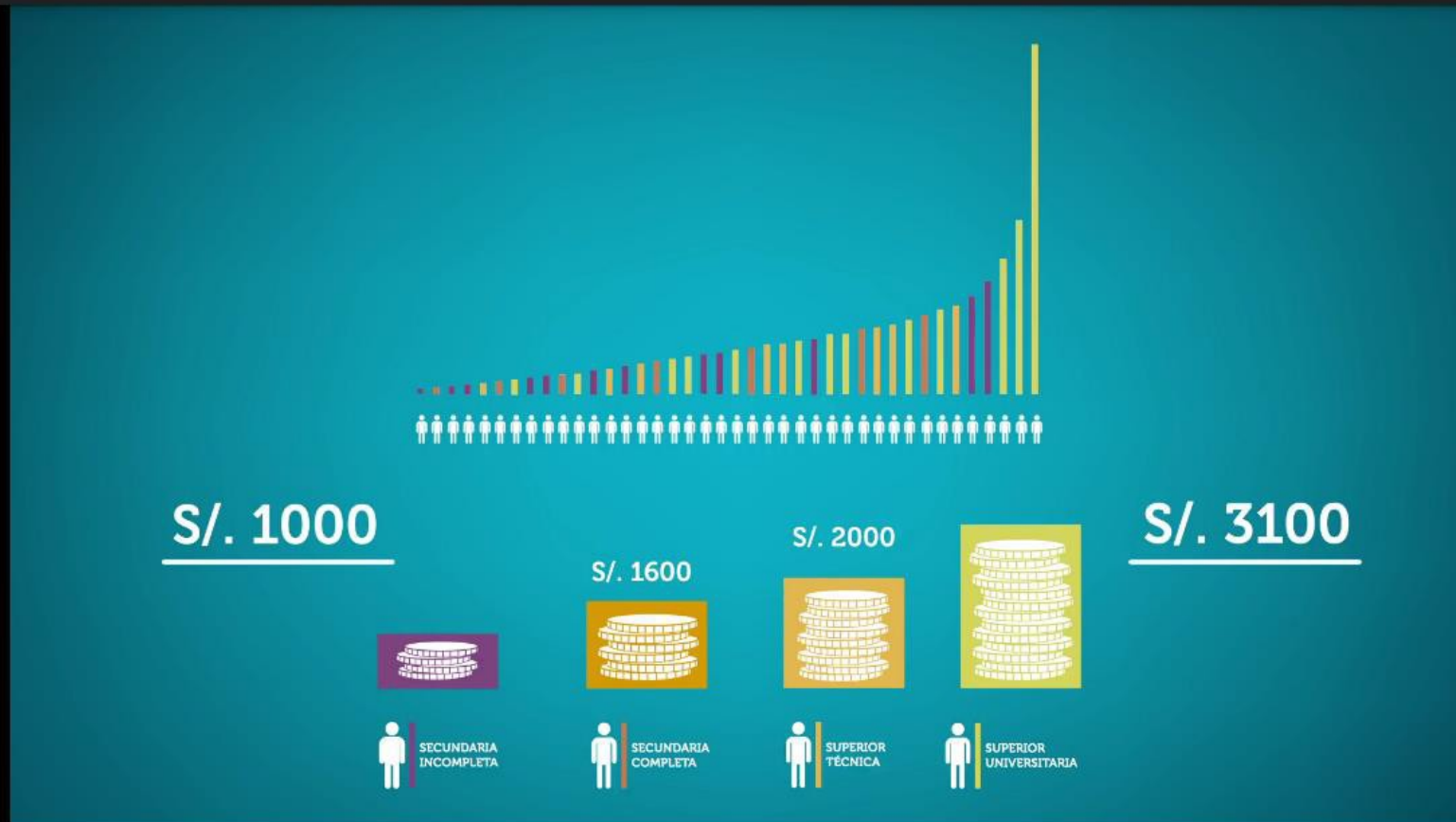
25. Si TU HIJO termina la universidad ¿con qué probabilidad crees que estará en cada grupo de ingresos?

100/100



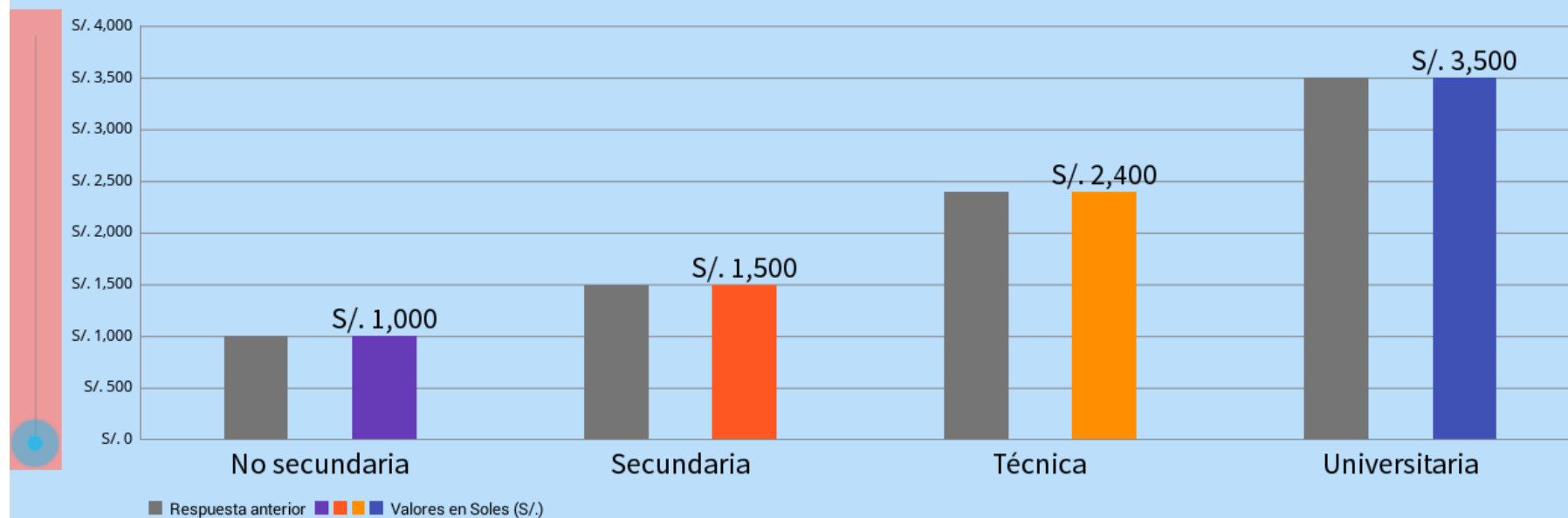
CONTINUAR

Nota: La respuesta está acotada entre 0% y 100%



CONTINUAR

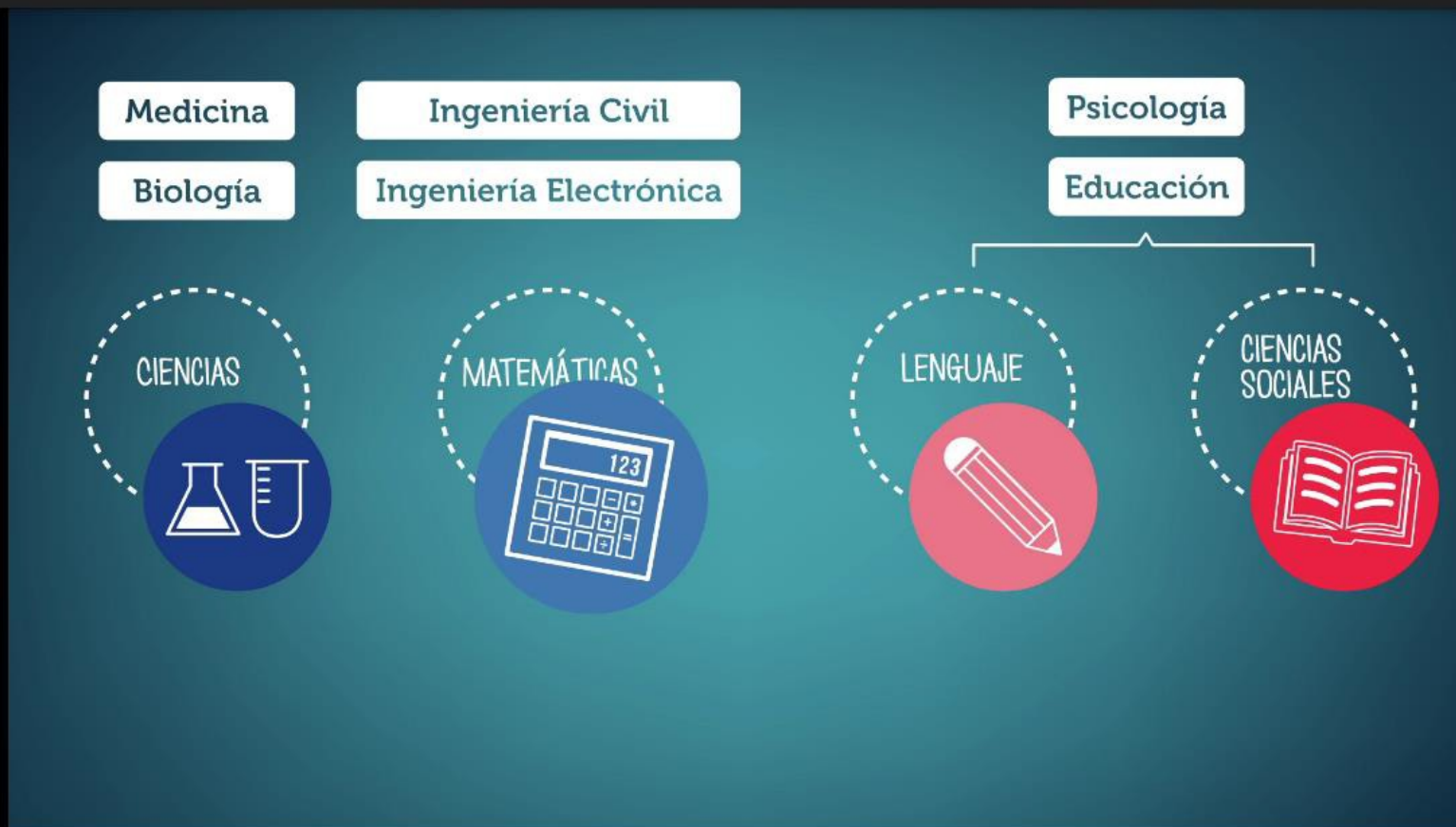
26. Ahora después de ver este video y obtener más información, ¿Cuánto crees que TU HIJO ganaría en promedio mensualmente si logras alcanzar cada uno de los siguientes niveles educativos?



CONTINUAR

Nota: Las barras grises muestran la respuesta anterior [Pregunta 21]

Nota: La respuesta está acotada entre S/.0 y S/.4000



CONTINUAR



27. ¿Cuál es el área de estudios que más te gustaría que TU HIJO siguiera?

- ☐ Derecho y Ciencias Políticas
- ☐ Salud
- ☐ Artes, humanidades y ciencias sociales
- ☐ Negocios y servicios
- ☐ Educación
- ☐ Ciencias y Tecnología

CONTINUAR



27a. Además de la elegida anteriormente
¿Cuál otra área de estudios te gustaría que TU HIJO siguiera?

- ☐ Derecho y Ciencias Políticas
- ☐ Salud
- ☐ Artes, humanidades y ciencias sociales
- ☐ Educación
- ☐ Ciencias y Tecnología

CONTINUAR



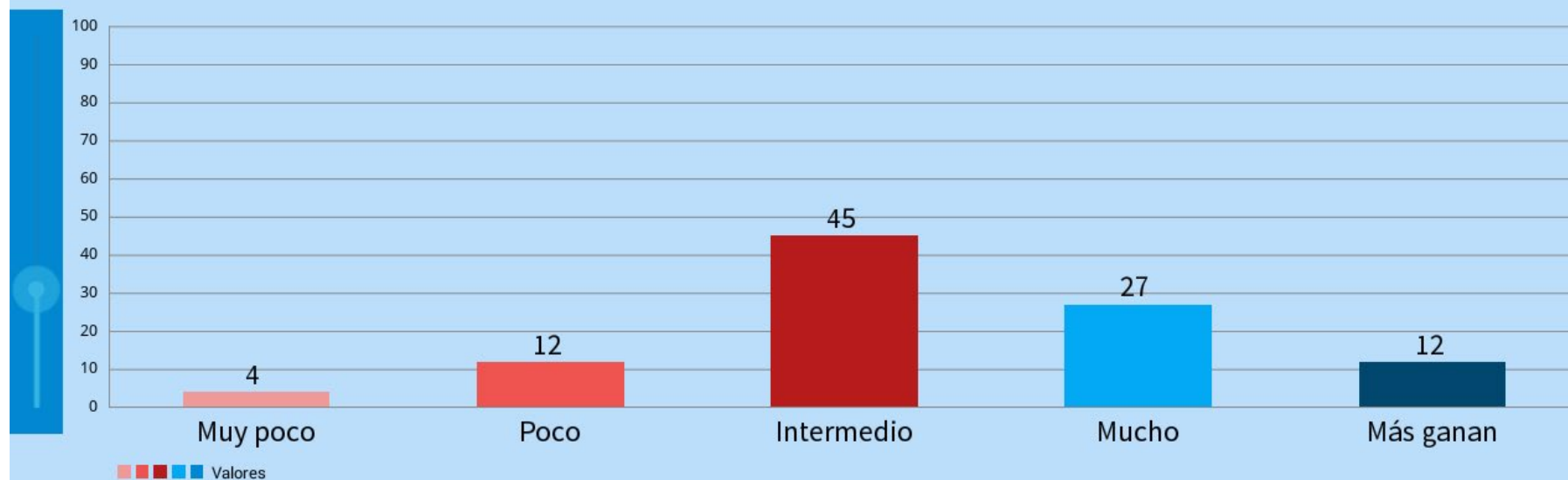
28. Según tus gustos y lo que has pensado hasta ahora, elige tres carreras de tu preferencia:

Primera opción de su preferencia

CONTINUAR

29. De 100 hombres que estudiaron Negocios y servicios ¿Cuántos crees que se encuentren en cada grupo de ingresos?

100/100 



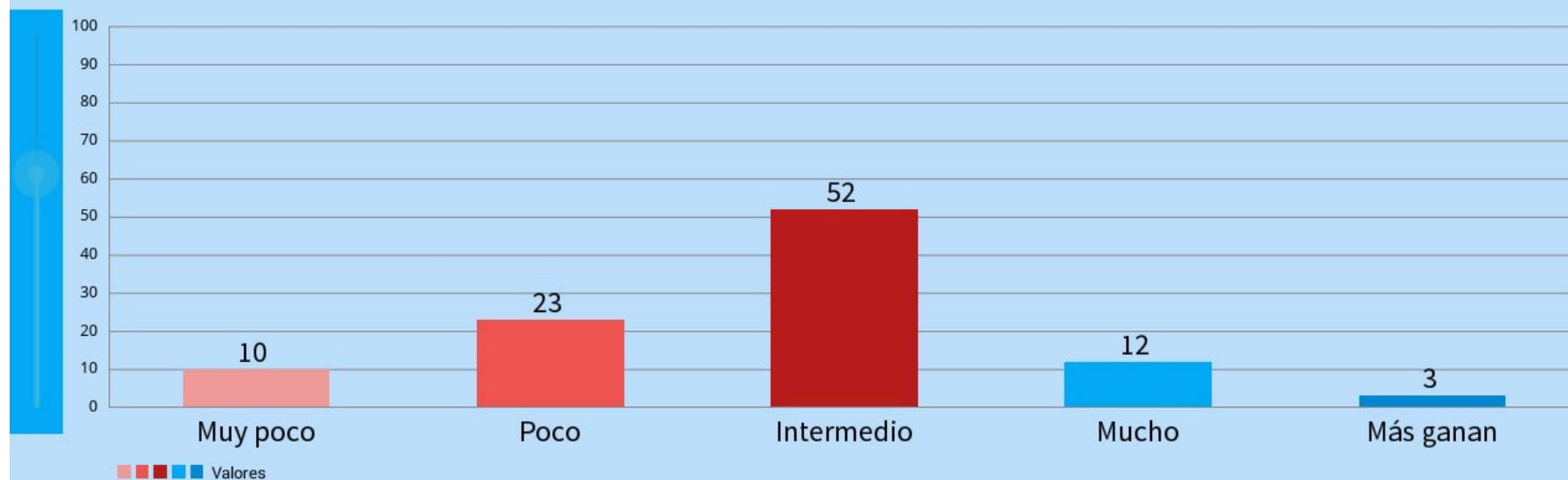
CONTINUAR

La pregunta cambia según el sexo del estudiante (Mujeres/Hombres)

Nota: La respuesta está acotada entre 0 y 100

30. De 100 hombres que estudiaron Educación ¿Cuántos crees que se encuentren en cada grupo de ingresos?

100/100 



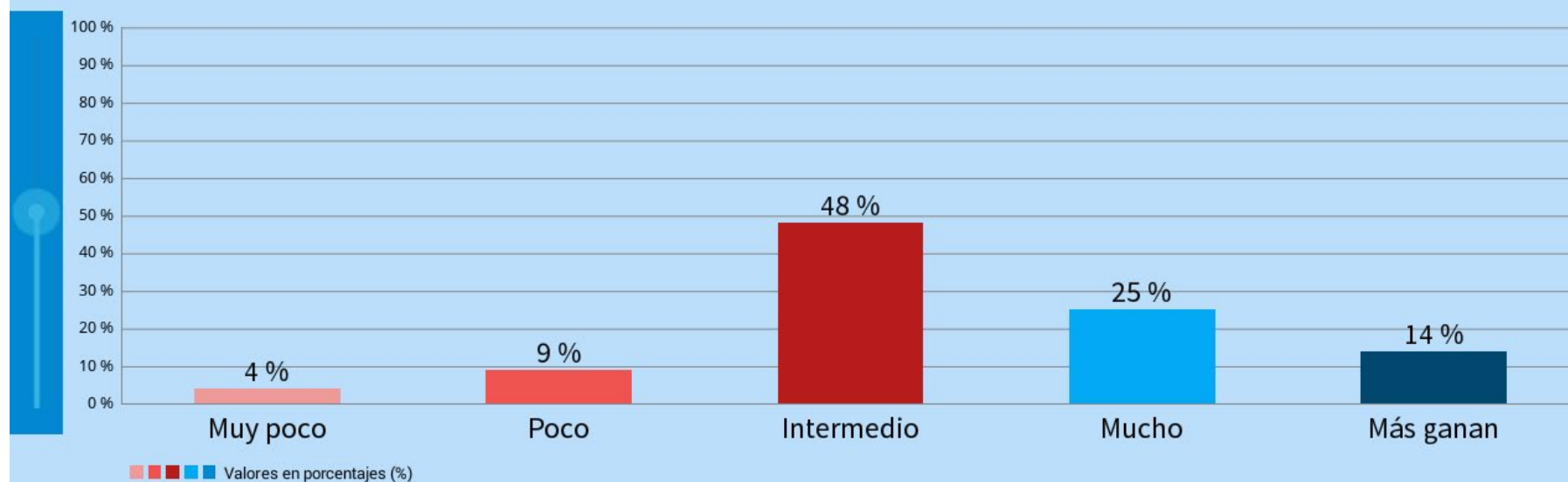
CONTINUAR

La pregunta cambia según el sexo del estudiante (Mujeres/Hombres)

Nota: La respuesta está acotada entre 0 y 100

33. ¿Cuál crees que sea la probabilidad de que TU HIJO se encuentre en cada uno de estos grupos si estudiaras una carrera del área de Negocios y servicios?

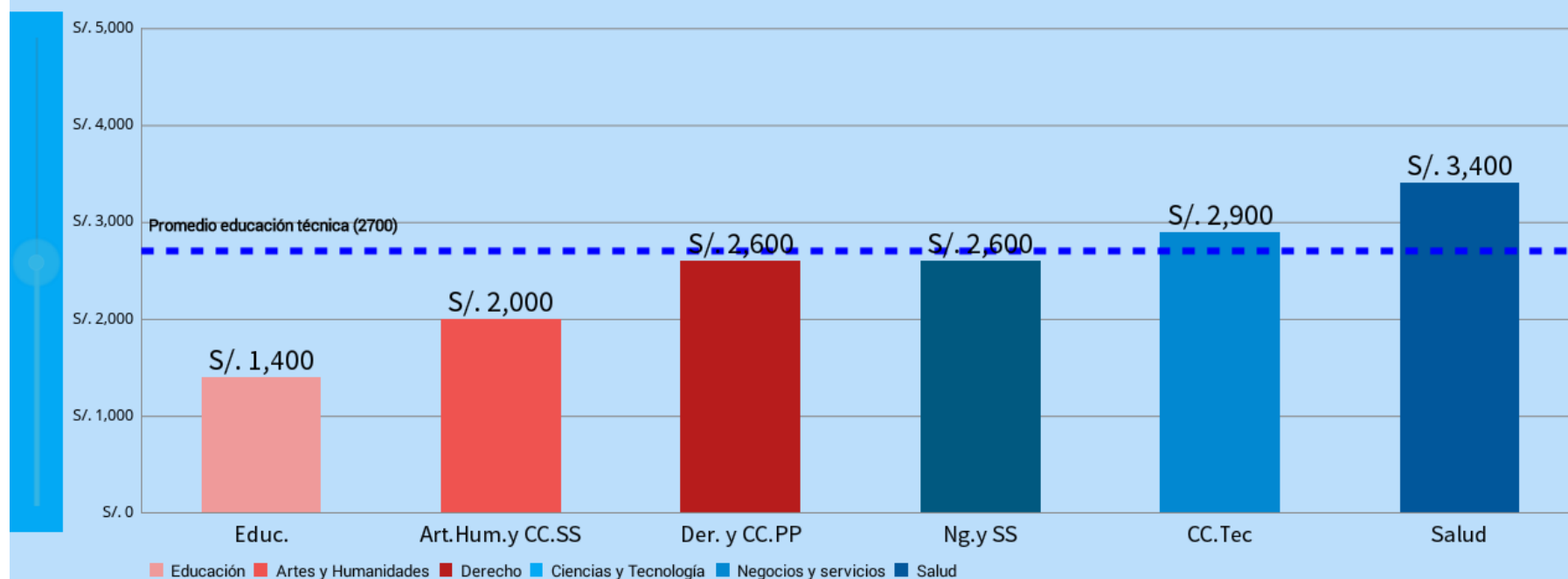
100/100



CONTINUAR

Nota: La respuesta está acotada entre 0% y 100%

34. De TODOS los hombres peruanos entre 25 y 55 años que terminaron una carrera técnica en cada una de estas áreas...

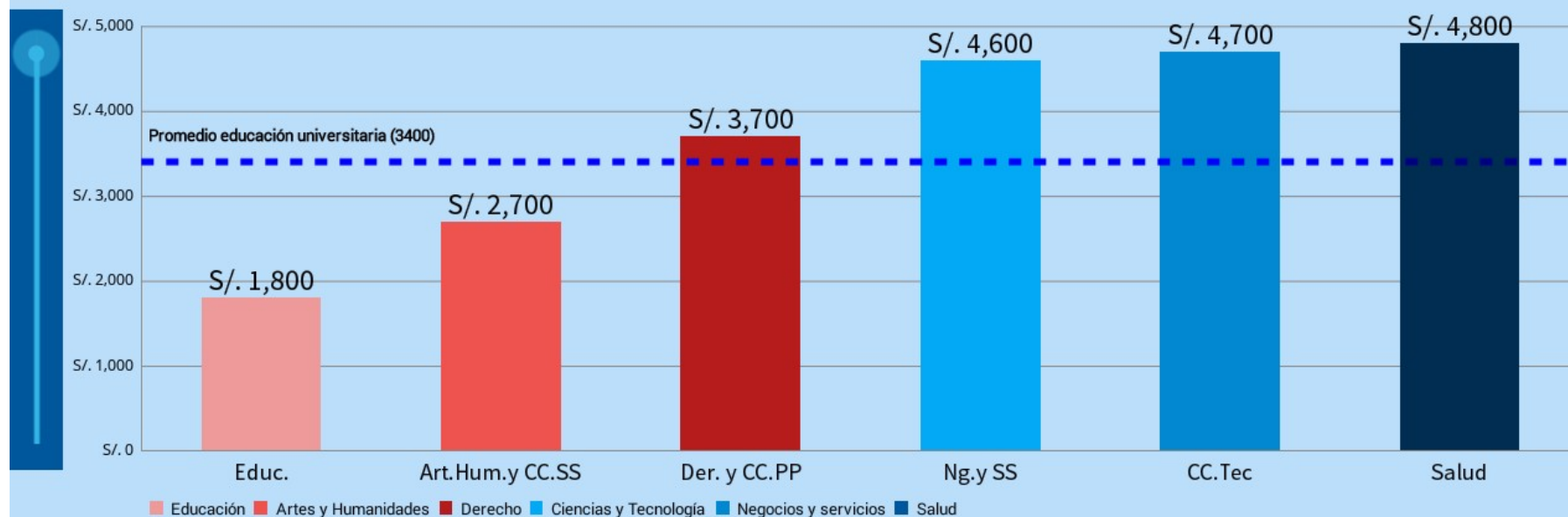


CONTINUAR

La pregunta cambia según el sexo del estudiante (Mujeres/Hombres)

Nota: La respuesta está acotada entre S/.0 y S/.5000

35. De TODOS los peruanos hombres entre 25 y 55 años que terminaron una carrera universitaria en cada una de estas áreas.
¿Cuánto crees que gane en promedio alguien que completó una carrera en ...

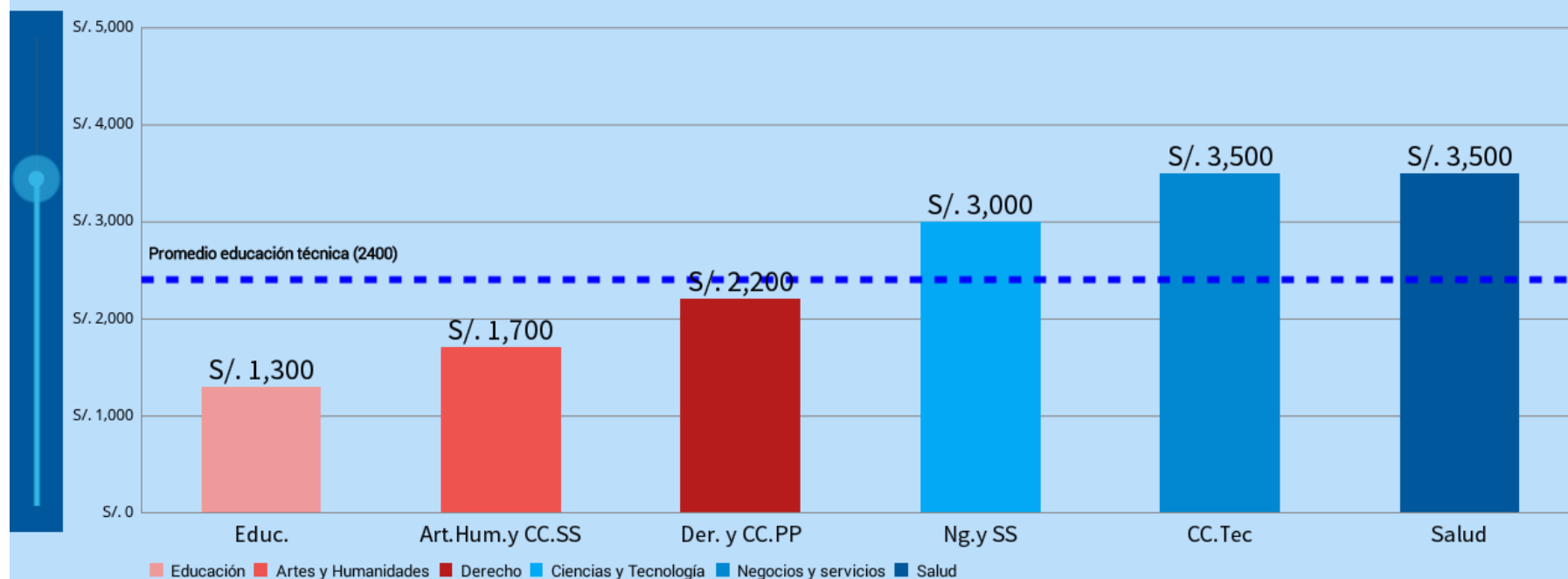


CONTINUAR

La pregunta cambia según el sexo del estudiante (Mujeres/Hombres)

Nota: La respuesta está acotada entre S/ .0 y S/ .5000

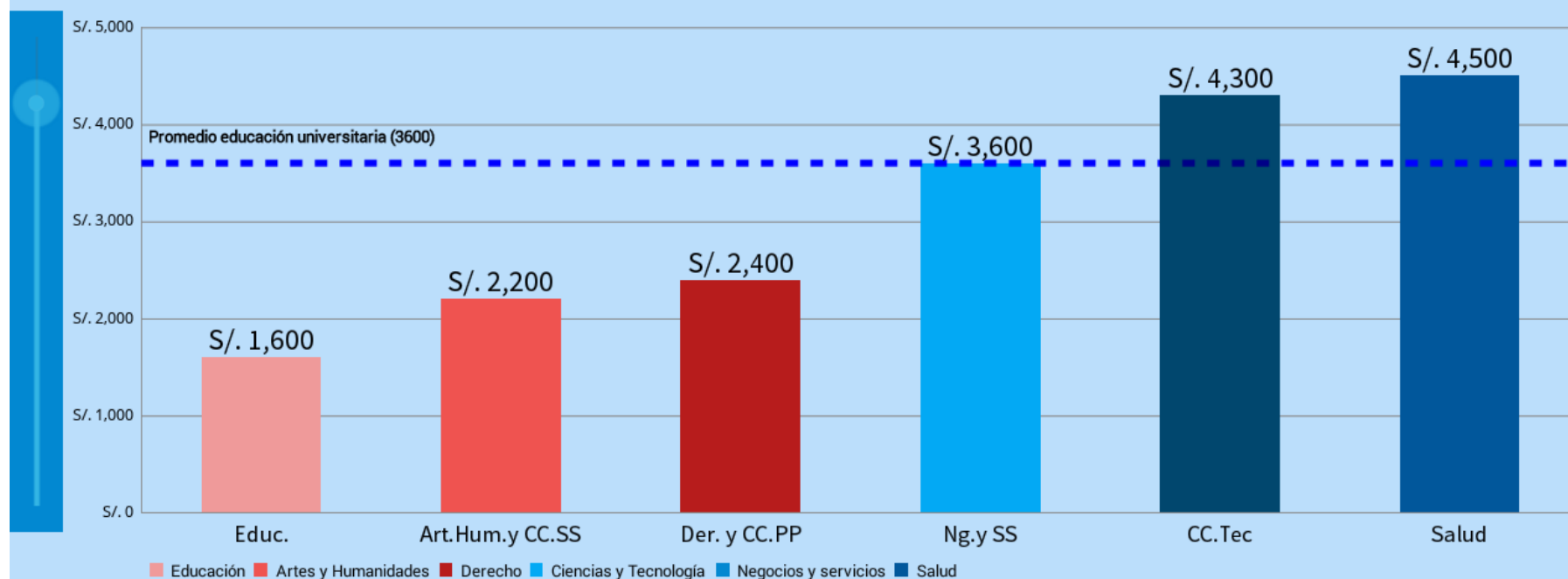
36. ¿Cuánto crees que podrías ganar en promedio TU HIJO si termina una carrera técnica relacionada a estas áreas?



CONTINUAR

Nota: La respuesta está acotada entre S/.0 y S/.5000

37. ¿Cuánto crees que podrías ganar en promedio si TU HIJO termina una carrera universitaria relacionada a estas áreas?

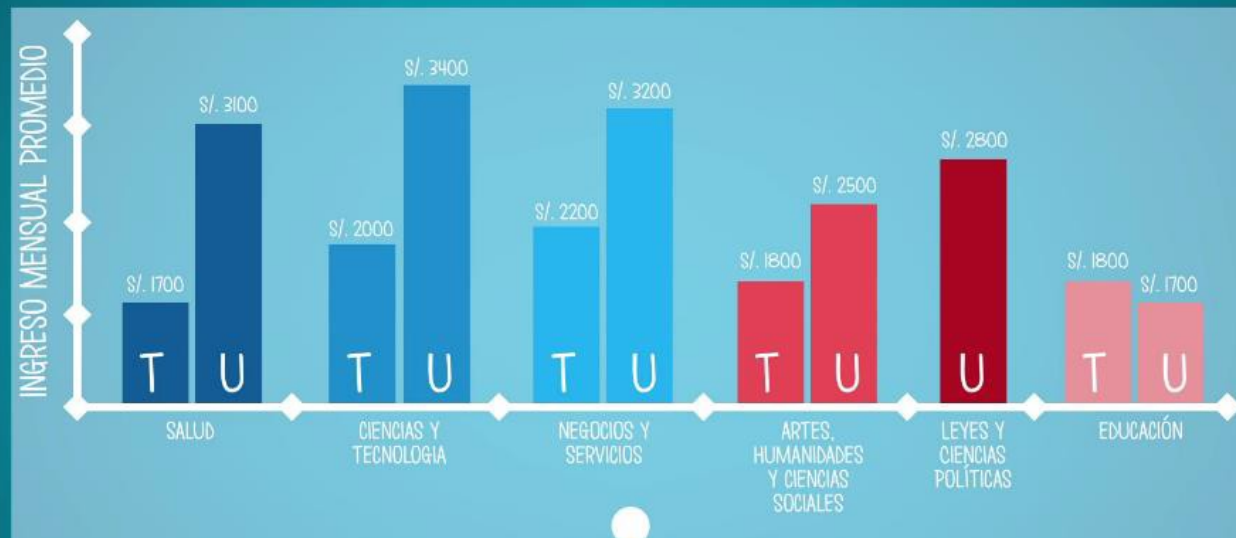


CONTINUAR

Nota: La respuesta está acotada entre S/0 y S/4000

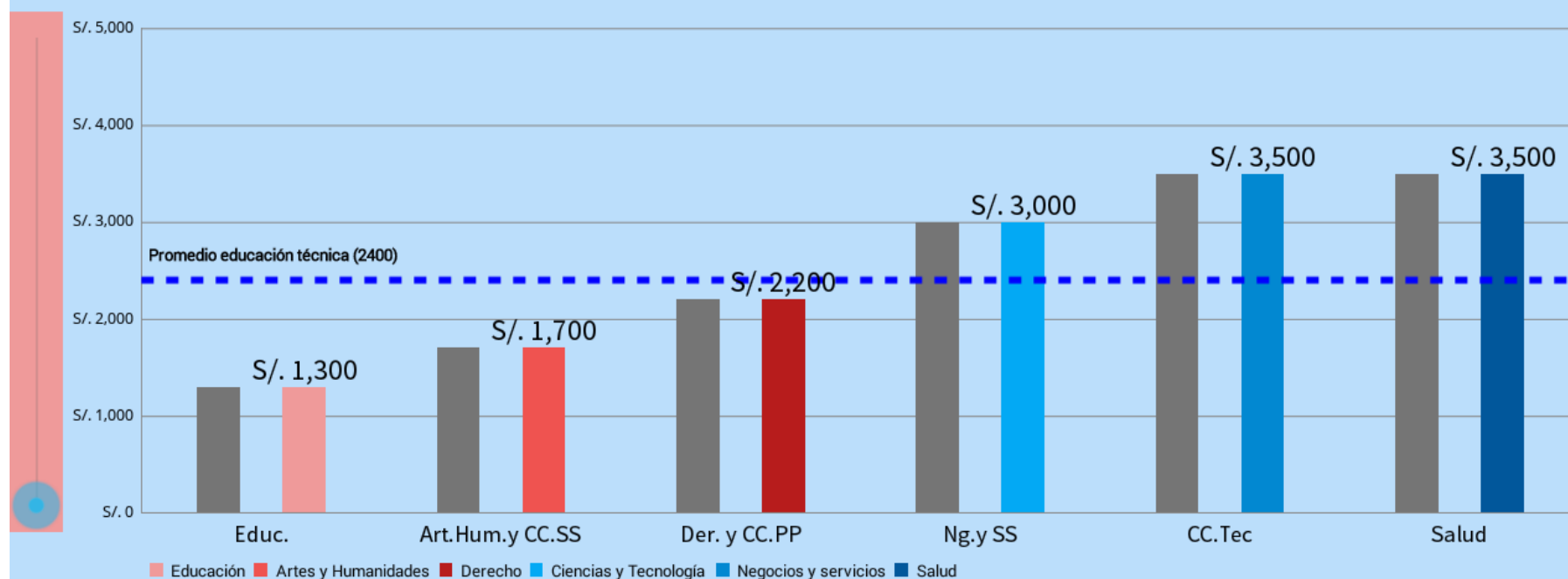
TÉCNICA

UNIVERSITARIA



CONTINUAR

38. Después de ver este video ¿Cuánto crees que TU HIJO puedas ganar si estudias una carrera técnica relacionada a las siguientes áreas?

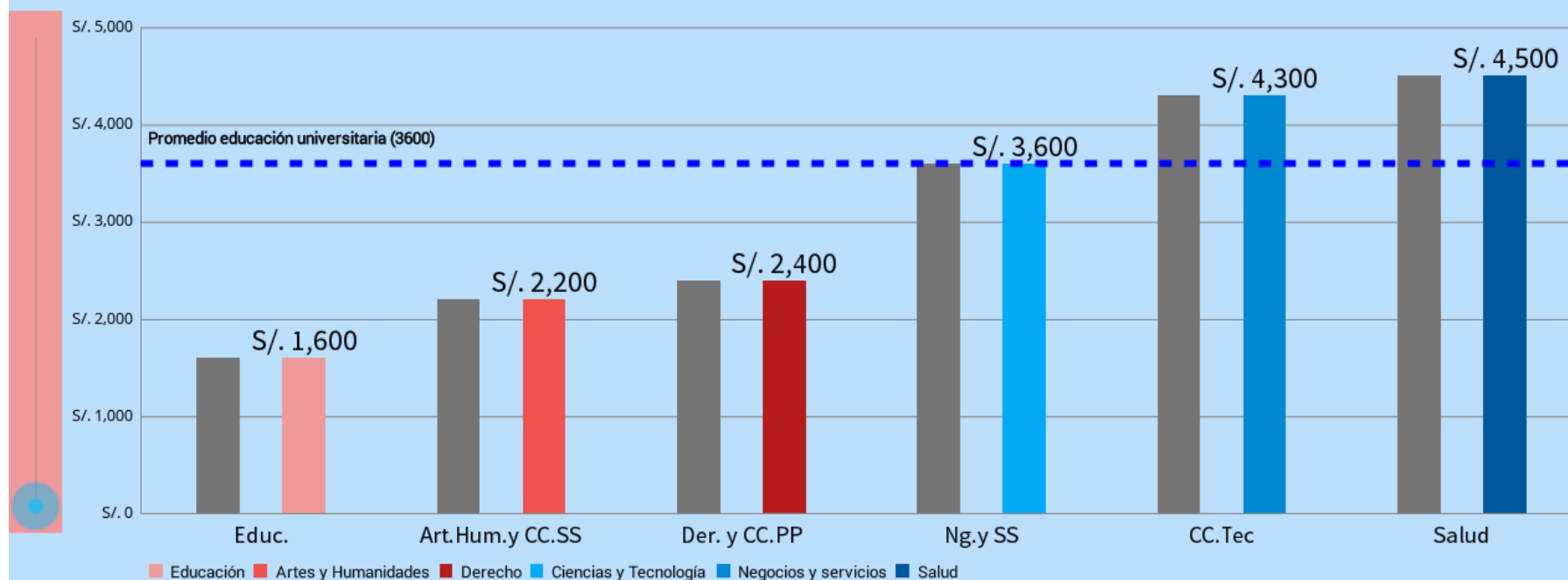


CONTINUAR

Nota: Las barras grises muestran la respuesta anterior [Pregunta 36]

Nota: La respuesta está acotada entre S/.0 y S/.5000

39. Después de ver este video ¿Cuánto crees que TU HIJO puedas ganar si estudias una carrera universitaria relacionada a las siguientes áreas?



CONTINUAR

Nota: Las barras grises muestran la respuesta anterior [Pregunta 37]

Nota: La respuesta está acotada entre S/.0 y S/.5000



40. ¿Qué nivel de educación te gustaría que TU HIJO alcanzara?

- ☐ Primaria
- ☐ Secundaria
- ☐ Superior Técnica
- ☐ Universitaria

CONTINUAR

41. Después de haber visto la información presentada ¿Cuál es el área de estudios que más te gustaría que TU HIJO siguiera?

- ☐ Derecho y Ciencias Políticas
- ☐ Salud
- ☐ Artes, humanidades y ciencias sociales
- ☐ Negocios y servicios
- ☐ Educación
- ☐ Ciencias y Tecnología

CONTINUAR



42. Además de la elegida anteriormente
¿Cuál otra área de estudios te gustaría que TU HIJO siguiera?

- ☐ Artes, humanidades y ciencias sociales
- ☐ Salud
- ☐ Educación
- ☐ Derecho y Ciencias Políticas
- ☐ Negocios y servicios

CONTINUAR

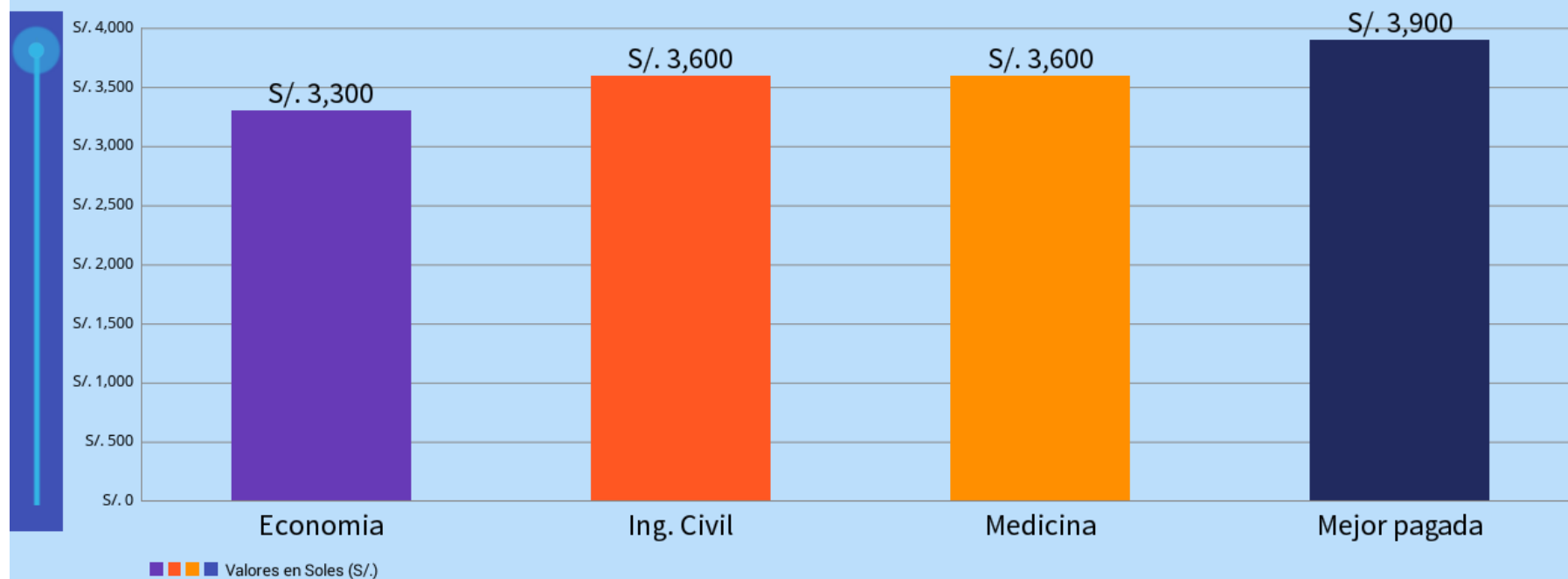


43. Elige tres carreras de tu preferencia:

Primera opción de su preferencia

CONTINUAR

44. ¿Cuánto crees que ganaría TU HIJO mensualmente si estudias alguna de las carreras mostradas en el gráfico?



CONTINUAR

Nota: La respuesta está acotada entre S/.0 y S/.4000



Elige el área de tu preferencia. Una vez que lo hayas elegido, elige la carrera del nivel educativo que más te interese.

Áreas de estudios

Artes, Humanidades y Ciencias Sociales

Ciencias y Tecnología

Educación

Negocios y Servicios

Salud

Derecho y Ciencias Políticas

Educación técnica

Secretariado

Contabilidad y Finanzas

Administracion de Empresas

Educación universitaria

Economia

Administracion de Empresas

Contabilidad y Finanzas

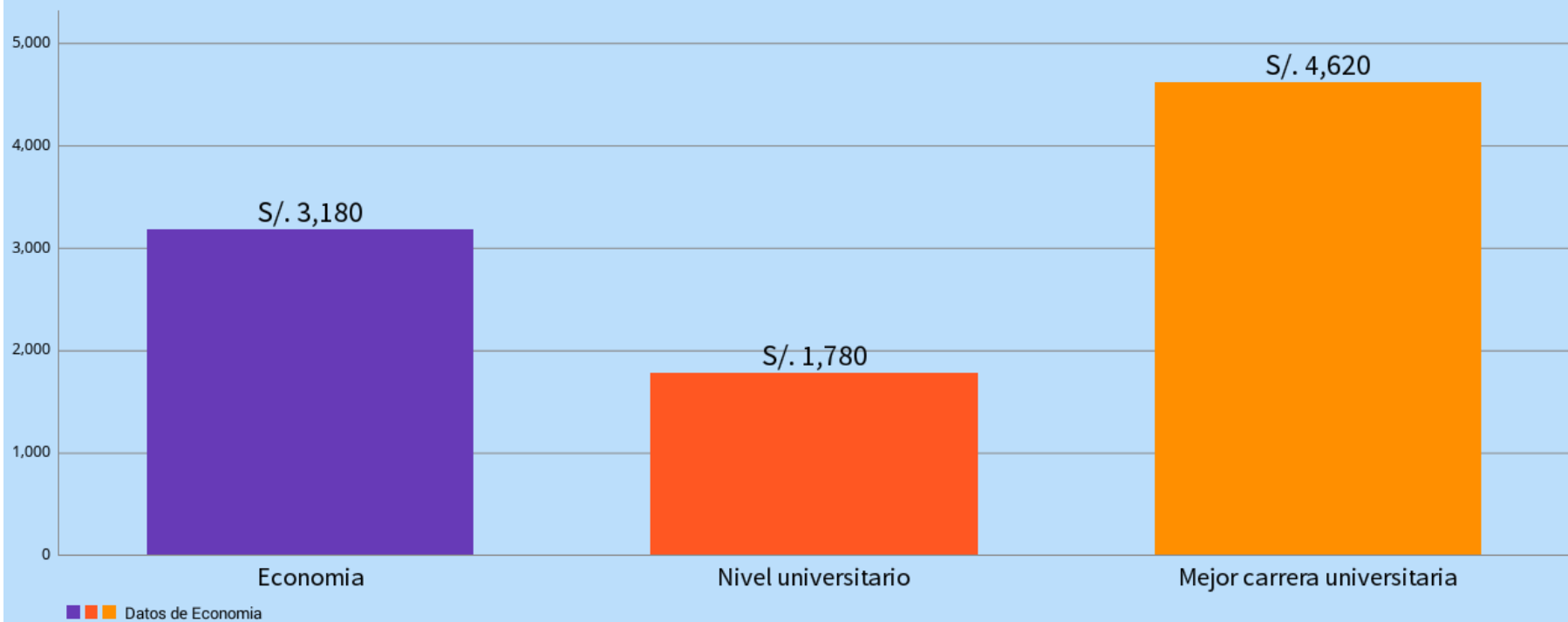
Ingenieria Industrial

Administracion de Servicios Turisticos

CONTINUAR



Datos de la carrera "Economía"

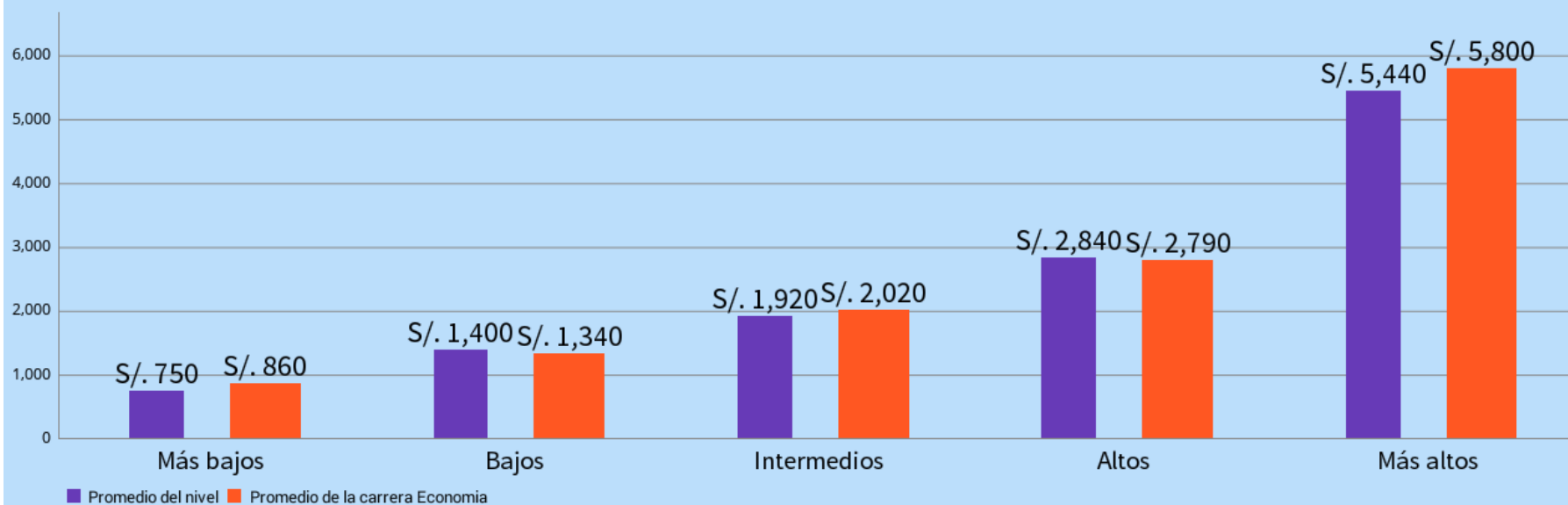


VOLVER

+ INFORMACIÓN

CONTINUAR

Los siguientes gráficos te muestran los promedios según grupo de ingresos. En él puedes distinguir entre el promedio de ingresos de cada carrera elegida y el nivel seleccionado.



VOLVER

CONTINUAR

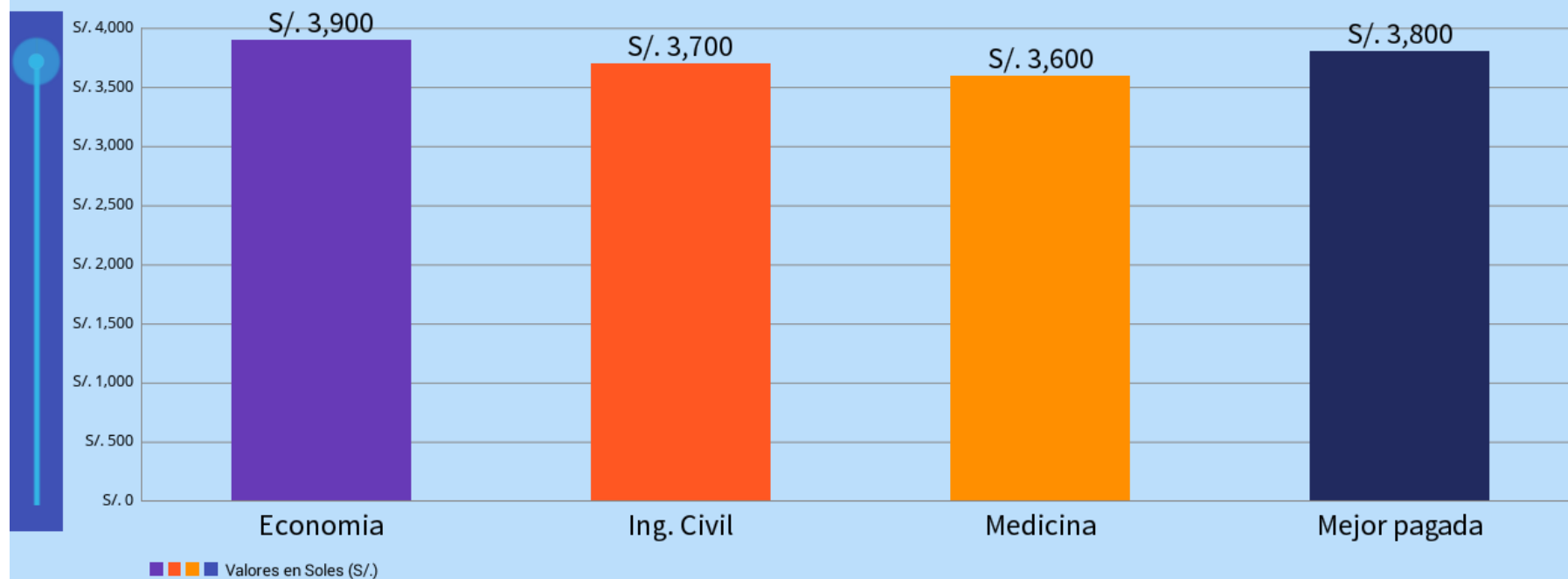


45. Luego de utilizar el buscador, ¿cuáles son las tres carreras de tu preferencia?

Primera opción de su preferencia

CONTINUAR

46. ¿Cuánto crees que ganarías mensualmente si TU HIJO estudia alguna de las carreras mostradas en el gráfico?



CONTINUAR

Nota: La información está acotada entre S/.0 y S/.4000



Has terminado la encuesta satisfactoriamente!

IR A LISTA DE ESTUDIANTES

NUEVA ENCUESTA EN COLEGIO